

EXAMEN DE OPOSICIONES PARA PROFESOR DE GEOGRAFÍA E HISTORIA

Andalucía 2018

PRUEBA TEÓRICO-PRÁCTICA (cuatro horas y media de duración, se realizaba en conjunto y en la misma sesión la teórica y la práctica)

EJERCICIO TEÓRICO

Desarrolle uno de los siguientes cinco temas extraídos al azar del temario oficial:

Los temas fueron diferentes en cada tribunal.

EJERCICIO PRÁCTICO

1º EJERCICIO: Analice y comente el siguiente documento histórico: (se deberá realizar un solo ejercicio de los dos -A y B- que se proponen. Calificación: 4 puntos)

1A

La coronación imperial del 800

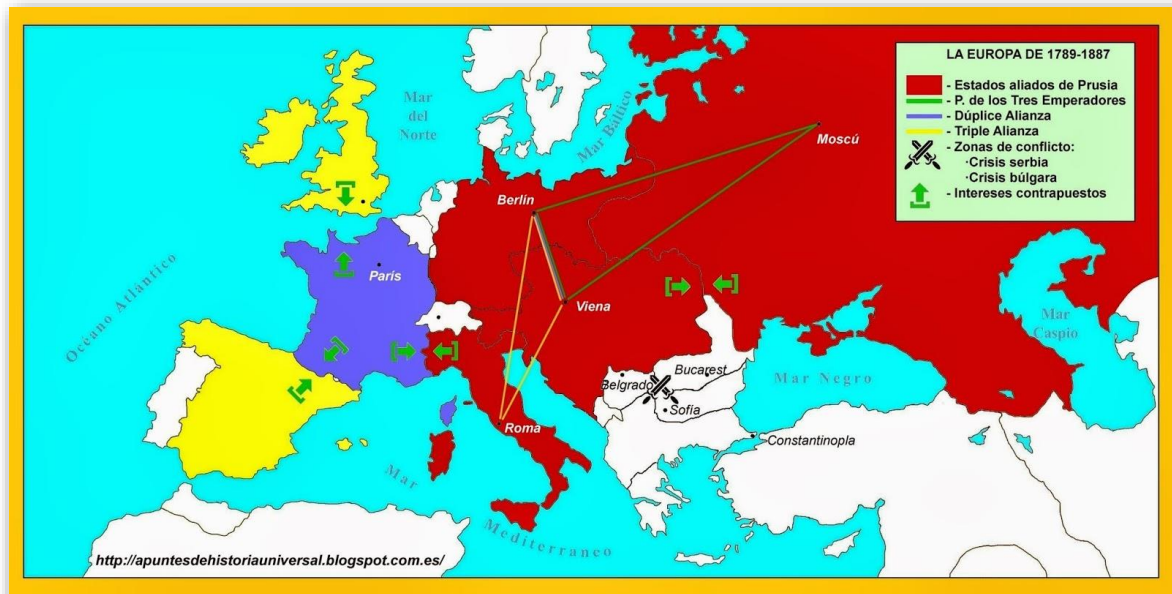
Como en el país de los griegos no había emperador y estaban bajo el imperio de una mujer, le pareció al Papa León y a todos los padres que en la asamblea se encontraban, así como a todo el pueblo cristiano, que debían dar el nombre de emperador al rey de los francos, Carlos, que ocupaba Roma, en donde todos los césares habían tenido costumbre de residir, así como también Italia, la Galia y Germania.

Habiendo consentido Dios omnipotente colocar estos países bajo su autoridad, pareció justo, conforme a la solicitud de todo el pueblo cristiano, que llevase en adelante el título imperial. No quiso el rey Carlos rechazar esta solicitud, sino que, sometiéndose con toda humildad a Dios y a los deseos expresados por los preladados y todo el pueblo cristiano, recibió este título y la consagración del Papa León el día de la Natividad de Nuestro Señor Jesucristo.

(Annales Laureshamenses, ann. 801. Ed. Pertz, M.G.H. Scriptores, I, p. 38. Recogido por Calmette: Textes et documents D'Histoire, II. Moyen Age, pág. 33, París, PUF, 1953)

Texto historiográfico sobre la Coronación de Carlomagno, este mismo texto se encuentra recogido en el bloque Historia 03-Historia Medieval.

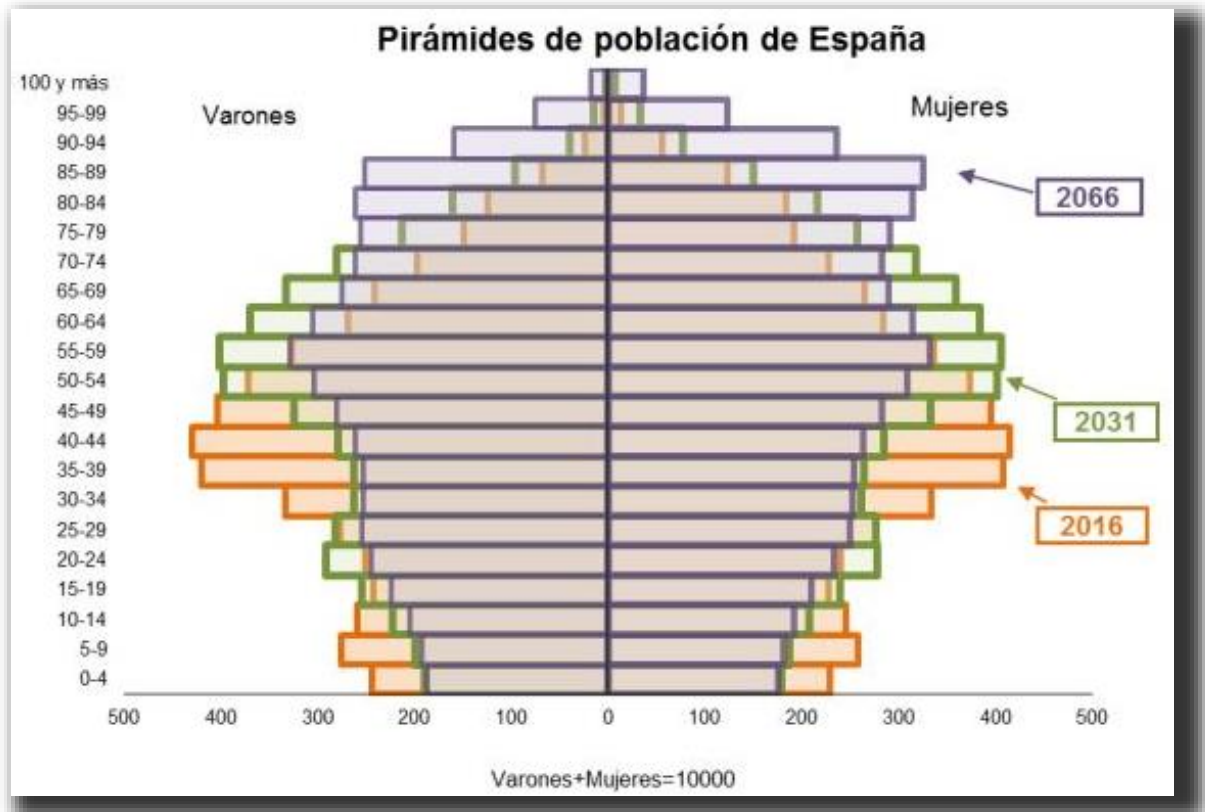
1B



Mapa histórico de los sistemas bismarkianos, un mapa similar sobre el mismo tema se encuentra recogido en el bloque Historia 05-Historia Contemporánea Universal.

2º EJERCICIO: Analice y comente el siguiente documento geográfico: (se deberá realizar un solo ejercicio de los dos -A y B- que se proponen. Calificación: 3 puntos)

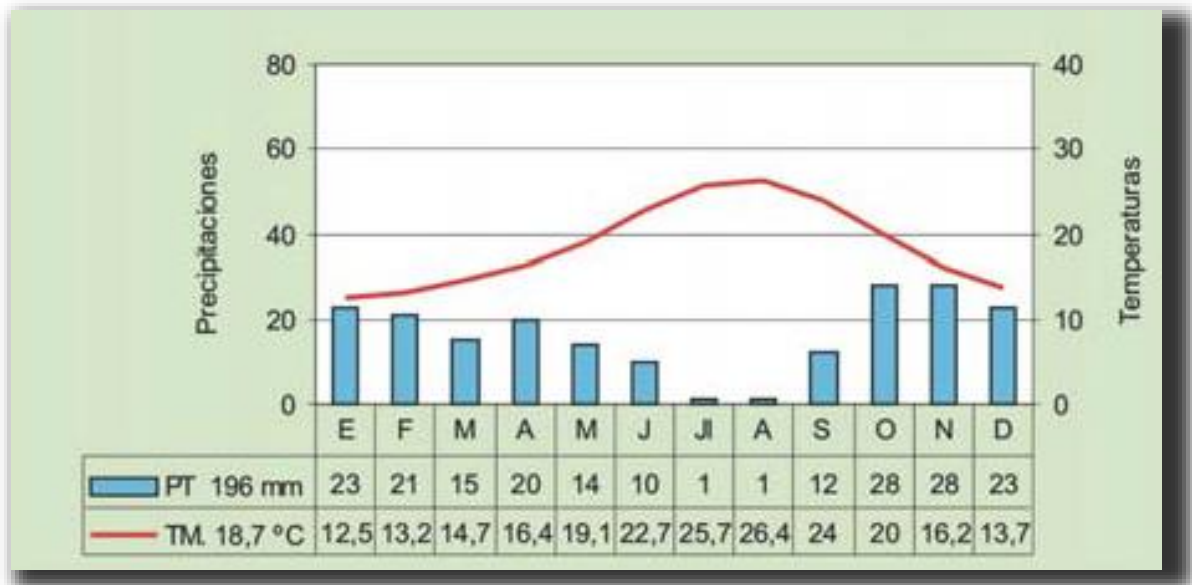
2A



Proyección de la pirámide de población española hasta 2066, según el Instituto Nacional de Estadística / INE

Se trata de la pirámide de población de 2016 y las proyecciones de población de los años 2031 y 2066, una pirámide similar se encuentra en el bloque Geografía 06-Población.

2B



Se trata de un clima árido (Almería), BSh según la clasificación Köppen, un climograma muy similar se encuentra en el bloque Geografía 01-Climatología I.

3º EJERCICIO: Analice y comente la siguiente representación artística: (se deberá realizar un solo ejercicio de los dos -A y B- que se proponen. Calificación: 3 puntos)

3A



El “Descendimiento de la Cruz” es considerada la obra maestra del pintor flamenco Roger van der Weyden. Estilo Gótico flamenco. La obra se encuentra en el bloque Historia del Arte 03-Historia del arte Medieval.

3B



“Familia de campesinos” de Rafael Zabaleta, natural de Jaén (1907-1960). Se trata de una obra muy personal, Zabaleta se encuadra en el estilo expresionista español de tercera generación, esta obra pertenece a su expresionismo rutilante de dosis postcubistas.