

EXAMEN DE OPOSICIONES PARA PROFESOR DE GEOGRAFÍA E HISTORIA

Galicia 2014

PARTE A: PRUEBA PRÁCTICA

a. Análisis y comentario de los siguientes documentos históricos:

a.1.) Texto

Valladolid, 1 de marzo de 1558

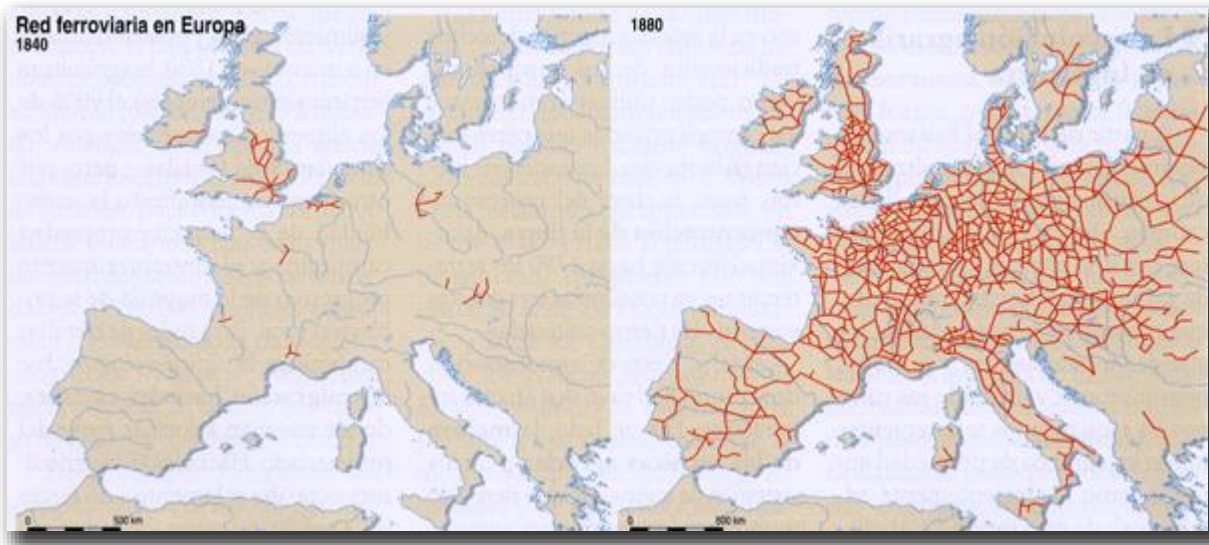
En el nombre de la Santísima Trinidad (...) la orden que da Luis Ortiz, Contador de Castilla de S.M. y vecino de la ciudad de Burgos, para que no salgan los dineros de estos Reinos de España, antes vengan de otros a ellos, y para que bajen las cosas de los excesivos precios en que al presente están (...)

Lo primero que se deroguen las leyes del Reino por las cuales están los oficiales manuales aniquilados y despreciados y se promulguen y hagan otras a favor de ellos, dándoles honra y trabajo (...)

Lo primero se ha de considerar que la principal fuente del dinero del mundo es España, así por lo que en ella nace como por lo que viene de Indias. Y si se conservase en estos Reinos no podría ser menos sino que el poderosísimo Rey y señor nuestro allanase y sujetase con ello la mayor parte del universo que es de infieles, e hiciese que los otros Príncipes cristianos, no teniendo con qué le hacer la guerra, tuvieses por bien de hacer una paz perpetua con su Majestad, lo que redundaría en gran ensalzamiento de nuestra santa fe católica (...)

No he conseguido el texto original exacto y completo, pero era un fragmento del memorial a Felipe II del arbitrista de la segunda mitad del siglo XVI Luis Ortiz: Memorial al Rey para que no salgan dineros de España (1558). Actividad resuelta en el bloque Historia 04-Historia Moderna.

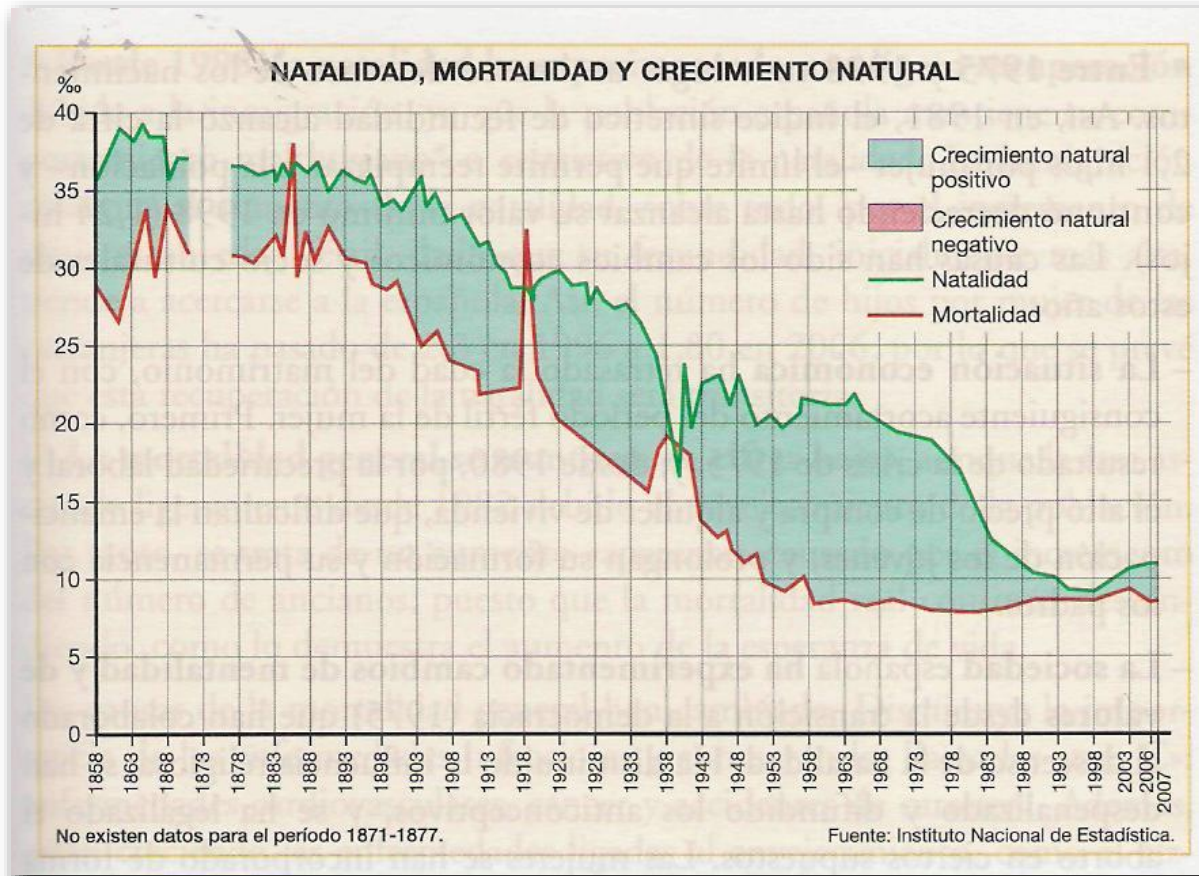
a.2.) Mapa



Este mapa histórico registra la expansión de la red ferroviaria en Europa entre 1840 y 1880, como consecuencia de la revolución de los transportes dentro de la revolución industrial. Actividad resuelta en el bloque Historia 05-Historia Contemporánea Universal.

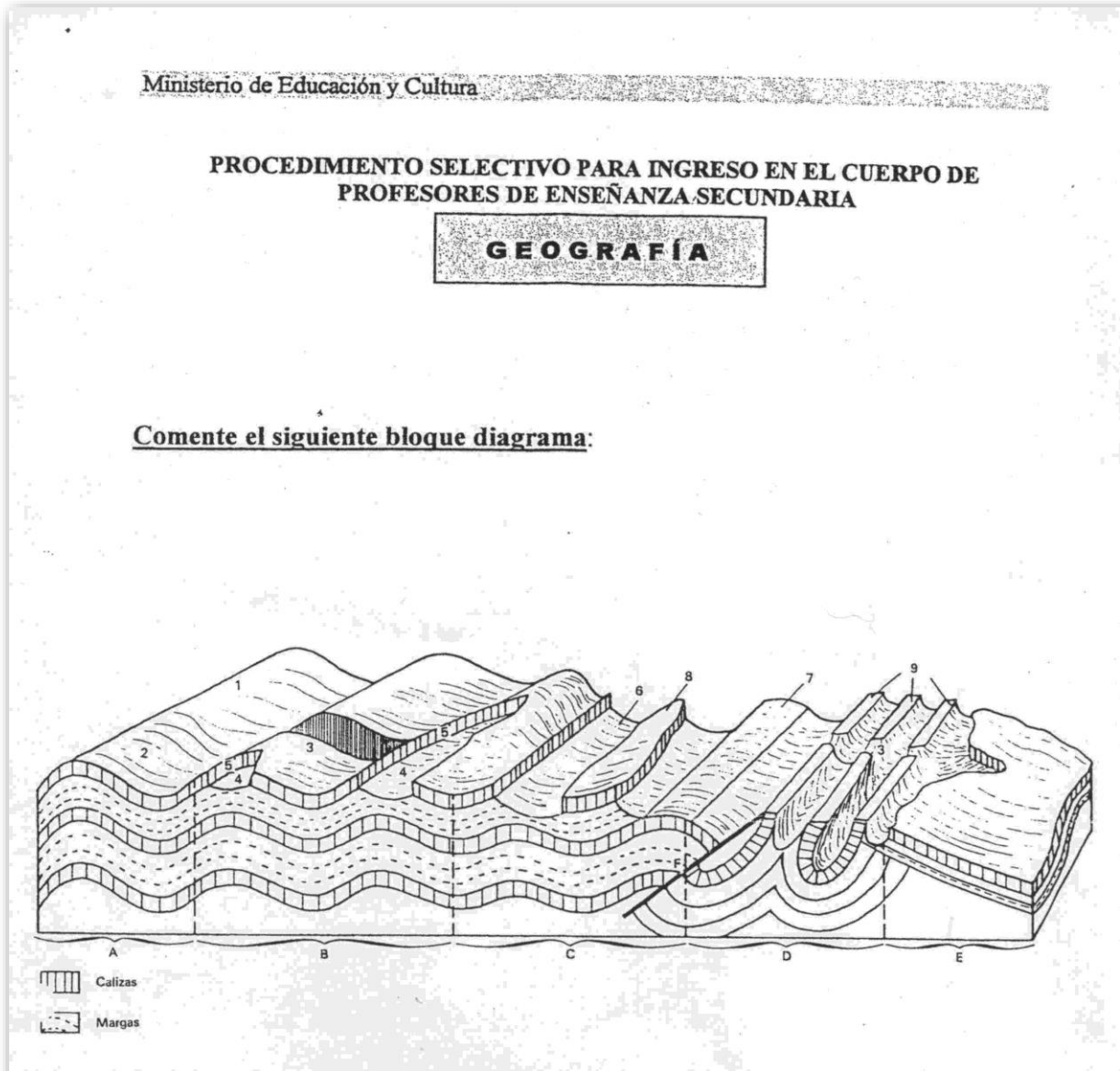
b. Análisis, comentario y resolución de los siguientes supuestos prácticos de geografía:

b.1.) Análisis y comentario de la gráfica:



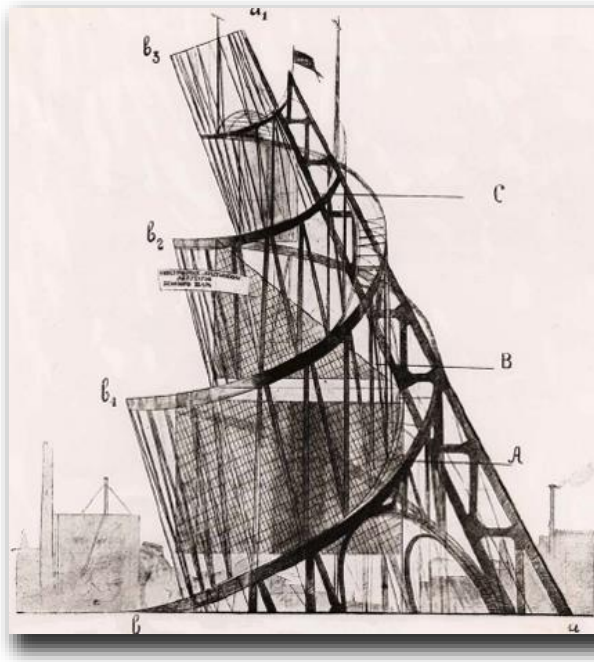
Esta gráfica de banderola registra la evolución de la natalidad y de la mortalidad, y por lo tanto del crecimiento vegetativo español entre 1858-2007. De este modo se muestra visualmente nuestro modelo de transición demográfica. Actividad resuelta en el bloque Geografía 06-Población.

b.1.) Análisis y comentario de la imagen identificando las principales formas de relieve:



Esta imagen muestra un bloque diagrama de relieve jurásico. Actividad resuelta en el bloque Geografía 03-Geomorfología I.

c. Compara, identifica y comenta estas dos láminas de arte:



Se trata del proyecto del Monumento a la Tercera Intencional de Tatlin (1919) y de la Columna de Marco Aurelio en Roma (176-192). La primera imagen aparece en el bloque Historia del Arte 05-Historia del Arte Contemporáneo, la segunda es una actividad resuelta del bloque Historia del Arte 02-Historia del Arte Antiguo.